


PYTANIE:

GDZIE HEJNALISTA GRAŁ NA TRĄBCE?

1

ODPOWIEDŹ:




\*WYBIERZ ODPOWIEDNI RYSUNEK I POKOLORUJ GO.

PYTANIE:

NA JAKIE INNE MIASTO NAPADLI TATARZY?

2

ODPOWIEDŹ:



\*ROZWIĄŻ REBUS I ODCZYTAJ POPRAWNĄ ODPOWIEDŹ.

PYTANIE:

ILE SCHODÓW MIAŁA WIEŻA MARIACKA?

3

ODPOWIEDŹ:

1 +

1 +

3 +

0 +

5 +

4 +


\* ROZWIĄŻ RÓWNANIE, A ZNAJDZIESZ ODPOWIEDŹ NA PYTANIE.

PYTANIE:

CZY TRĘBACZOWI UDAŁO SIĘ  
OBUDZIĆ MIESZKAŃCÓW?

4

ODPOWIEDŹ:



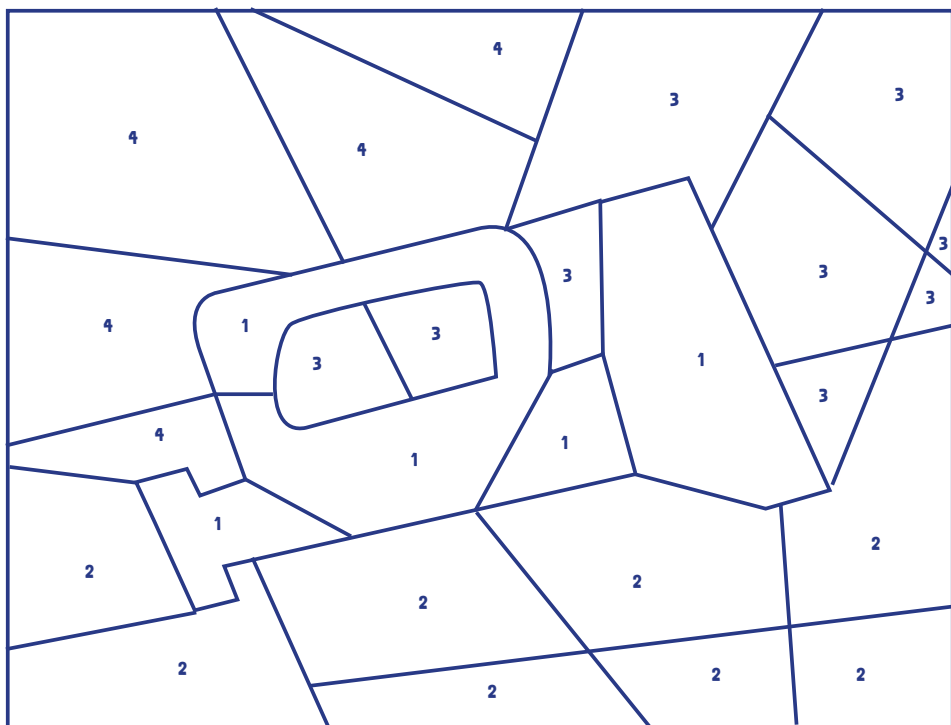
\*ZNAJDŹ 7 RÓŻNIC MIĘDZY OBRAZKAMI I ZAZNACZ JE KÓŁKIEM.

PYTANIE:

KTO ZAGRZEWAŁ KRAKOWIAN DO WALKI?

5

ODPOWIEDŹ:



1 - ZIELONY / 2 - CZERWONY / 3 - NIEBIESKI / 4 - BRĄZOWY


\* POKOLORUJ OBRAZEK WEDŁUG SCHEMATU.

PYTANIE:


JAK CZĘSTO GRANY JEST HEJNAŁ?

6


ODPOWIEDŹ:




12:00



15:30



19:45



8:25

\* ZAZNACZ PODANE GODZINY NA ZEGARACH.